

B2

Παρασκευή 8 Νοεμβρίου 2013

ΓΛΩΣΣΑ: Έγινε από το βιβλίο του μαθητή η άσκηση 2, σελίδα 43 και από το τετράδιο εργασιών άσκηση 1, σελίδα 25.

Αντιγραφή-ορθογραφία: **Δεν έχουμε.**

Προτάσεις με τις λέξεις: **Δεν έχουμε.**

Ανάγνωση: **Δεν έχουμε.**

ΜΑΘΗΜΑΤΙΚΑ: Έγινε από το τετράδιο εργασιών κεφάλαιο 13, σελίδες 32 και 33.

Μία φωτοτυπία Γλώσσας και μία Μαθηματικών.


Τη Δευτέρα έχουμε: Γλώσσα, Μαθηματικά, Μελέτη Περιβάλλοντος, Ευέλικτη ζώνη, Αγγλικά.

Τη Δευτέρα σχολάμε 13:15.

Το ολόημερο λειτουργεί κανονικά.

ΚΑΛΟ ΣΑΒΒΑΤΟΚΥΡΙΑΚΟ

Σχεδιάσε και γράψε κι εσύ την ετικέτα για το δικό σου προϊόν. Μπορείς και να τη ζωγραφίσεις



ΟΝΟΜΑΣΙΑ ΠΡΟΪΟΝΤΟΣ

.....

ΠΕΡΙΕΧΟΜΕΝΟ

.....

ΒΑΡΟΣ

.....

ΠΑΡΑΣΚΕΥΑΣΤΗΚΕ ΤΗΝ

.....

ΗΜΕΡΟΜΗΝΙΑ ΛΗΞΗΣ

.....

ΠΟΙΟΣ ΤΟ ΕΚΑΝΕ ;

.....
.....
.....

ΠΟΥ ΕΓΙΝΕ ;

.....


ΧΩΡΑ ΠΡΕΛΕΥΣΗΣ

.....


Όνομα: _____

Ονοματεπώνυμο: _____

Μαθαίνω τα γεωμετρικά σχήματα και τα γεωμετρικά στερεά σώματα




A. Είναι γεωμετρικά σχήματα:



τετράγωνο




Έχει τέσσερις γωνίες και τέσσερις πλευρές όλες ίσες μεταξύ τους



ορθογώνιο



Έχει τέσσερις γωνίες και τέσσερις πλευρές που ανά δυο οι απέναντι είναι ίσες.



κύκλος



Δεν έχει καμία γωνία

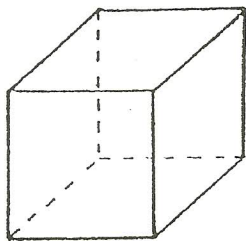


τρίγωνο



Έχει τρεις γωνίες και τρεις πλευρές

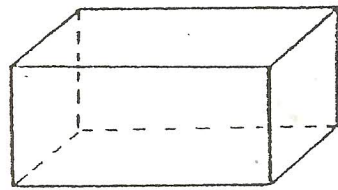
B. Είναι στερεά γεωμετρικά σώματα:



κύβος



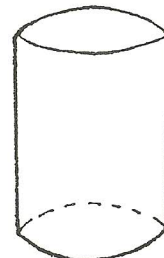
Έχει έξι έδρες τετράγωνα



στερεό ορθογώνιο



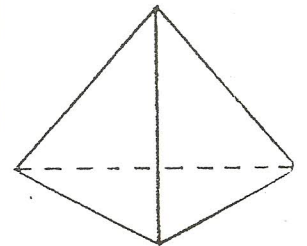
Έχει έξι έδρες ορθογώνια ή δυο τετράγωνα και τέσσερα ορθογώνια



κύλινδρος



Έχει τρεις έδρες δυο κύκλους και στη μέση ορθογώνιο





πυραμίδα



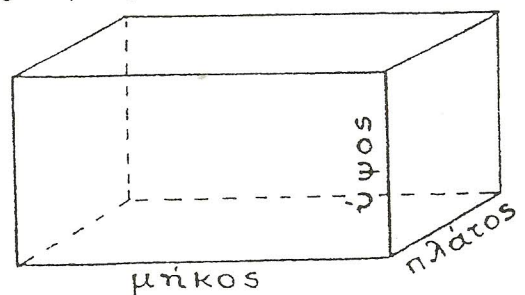
Έχει τέσσερις έδρες τρίγωνα

Γ. Διαστάσεις

Τα γεωμετρικά σχήματα έχουν:




Τα γεωμετρικά στερεά σώματα έχουν:



Εργασίες στα Μαθηματικά

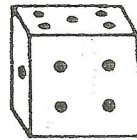
1. Γράφω με ποιο γεωμετρικό στερεό σώμα μοιάζουν τα παρακάτω φυσικά στερεά σώματα:



Το σπιρτόκουτο μοιάζει με _____



Η σκηνή μοιάζει με _____


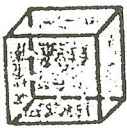
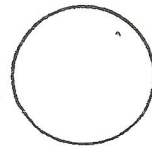



Το ζάρι μοιάζει με _____



Τα ποτήρια μοιάζουν με _____

2. Αναγνωρίζω τα γεωμετρικά σχήματα και σώματα και απαντώ στις ερωτήσεις:



• Ποια είναι τα επίπεδα γεωμετρικά σχήματα;

• Ποια είναι τα στερεά γεωμετρικά σώματα;

• Ποια σχήματα έχουν 4 πλευρές και 4 γωνίες;

• Ποιο σχήμα έχει 3 πλευρές και 3 γωνίες; _____

• Ποιο σχήμα δεν έχει καθόλου πλευρές; _____

• Ποια στερεά σώματα έχουν 6 έδρες;

• Ποιο στερεό σώμα έχει όλες τις έδρες τετράγωνα; _____

• Ποιο στερεό σώμα έχει όλες τις έδρες ορθογώνια; _____

• Ποιο στερεό σώμα έχει έδρες τρίγωνα; _____

• Ποιο στερεό σώμα έχει έδρες κύκλους κι ορθογώνιο; _____