



1. Συμπληρώνω ό,τι λείπει (αριθμούς και λέξεις):

είκοσι τρία	25	50
σαράντα δύο	36	δεκαεννιά

2. Υπολογίζω τα αθροίσματα:


$10+5=$	$10+9=$	$10+6=$
$10+10+10=$	$10+10+10+4=$	$10+10+10+10+3=$
$10+10+5=$	$10+10+10+1=$	$10+10+10+5=$
$10+10+8=$	$10+10+5+5=$	$10+10+5+5+5=$

3. Κυκλώνω τις Μ (μονάδες) με πράσινη ξυλομπογιά και τις Δ (δεκάδες) με κόκκινη:

36 47 12 44 26 20 15 11 40

4. Βρίσκω τις Μ(μονάδες) και τις Δ(δεκάδες) και συμπληρώνω:

Το 13 έχει Δ και Μ	$13 = 10 + 3$
Το 31 έχει Δ και Μ	$31 =$
Το 42 έχει Δ και Μ	$42 =$
Το 24 έχει Δ και Μ	$24 =$



5. Συμπληρώνω τον αριθμό που είναι ανάμεσα:


39	41	49	51	32	34	43	45
----	----	----	----	----	----	----	----

6. Υπολογίζω σωστά:

$4+1+3=$	$2+3+4=$	$5+1+3=$	$4+4+2=$
$2+2+5=$	$6+1+3=$	$4+2+3=$	$2+1+5=$
$3+2+....=7$	$5+2+....=8$	$2+5+....=10$	$6+2+....=6$
$4+5+....=10$	$2+2+2+....=8$	$5+2+...=10$	$3++3+2+....=9$



Όνοματεπώνυμο _____

1. Γράφω τι κάνει το κάθε παιδί.




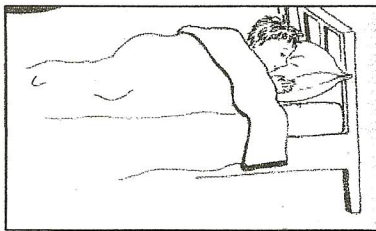
Η Καίτη _____.

Ο Πέτρος _____ στη μηλιά.



Η Ειρήνη _____ τα φυτά. Ο Κυριάκος _____ το έλατο.

2. Βλέποντας την εικόνα, απαντώ στην ερώτηση **τι κάνω εγώ**.



Εγώ _____ . Εγώ _____ . Εγώ _____ .

3. Συμπληρώνω τα γράμματα που λείπουν.

Ο ένας	Οι πολλοί
ο δρόμ ____	οι δρόμ ____
ο κυνηγ ____	οι κυνηγ ____
ο φίλ ____	οι φίλ ____
ο κήπ ____	οι κήπ ____
ο δάσκαλ ____	οι δάσκαλ ____