

Όνομα: _____

1. Να συμπληρώσεις τις προτάσεις με το σωστό οριστικό άρθρο:


Τα πρόσωπα _____ παιδιών είναι χαρούμενα.
Καθαρίζω _____ πίνακα _____ τάξης μου.
Μου αρέσει _____ τσάντα και _____ κασετίνα _____ Ελένης.
_____ στέγες _____ σπιτιών είναι χιονισμένες.
Ποτίζω _____ τριανταφυλλιές _____ γιαγιάς μου.

2. Να συμπληρώσεις τις προτάσεις με το σωστό αόριστο άρθρο:

_____ φορά κι _____ καιρό ήταν _____ ψαράς που ζούσε στην άκρη _____ λίμνης.
_____ μέρα είδα _____ φίλο μου στο δρόμο.
_____ πειρατής βρήκε _____ θησαυρό θαμμένο σε _____ μακρινό νησί.
Σε _____ στιγμή _____ παιδί πετάχτηκε στο δρόμο και το κόκκινο αυτοκίνητο φρενάρησε απότομα.

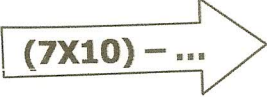

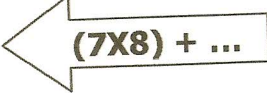
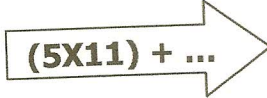

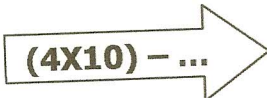

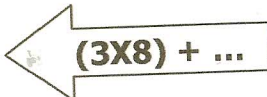
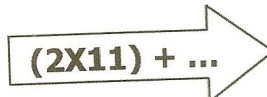

3. Να κλίνεις το παρακάτω ουσιαστικό:

Ενικός αριθμός	
Ονομαστική	η φωνή
Γενική	
Αιτιατική	
Κλητική	
Πληθυντικός αριθμός	
Ονομαστική	
Γενική	
Αιτιατική	
Κλητική	


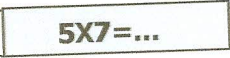
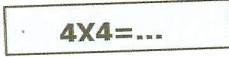


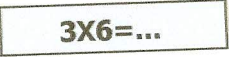
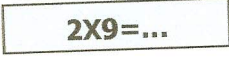


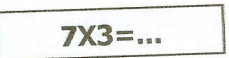
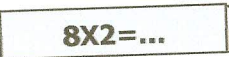


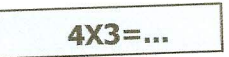
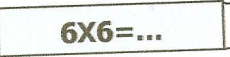


Όνομα: _____

1. Συμπληρώνω τους αριθμούς που λείπουν.

 $(7 \times 10) - \dots$		 $(7 \times 8) + \dots$
 $(5 \times 11) + \dots$		 $(6 \times 7) + \dots$
 $(4 \times 10) - \dots$		 $(3 \times 8) + \dots$
 $(2 \times 11) + \dots$		 $(2 \times 9) + \dots$

2. Υπολογίζω τα γινόμενα.

	 $5 \times 7 = \dots$	 $4 \times 4 = \dots$	
	 $3 \times 6 = \dots$	 $2 \times 9 = \dots$	
	 $7 \times 3 = \dots$	 $8 \times 2 = \dots$	
	 $4 \times 3 = \dots$	 $6 \times 6 = \dots$	