



Όνομα: _____


1. Συμπληρώνω τους αριθμούς στις αριθμομπάλες.




2×250




$900 - 700$




$270 + 30$




4×150




$200 - 8$



$650 - 150$



6×60




$800 : 2$

2. Φτιάχνω τον αριθμό 430 με τέσσερις τρόπους.

$\dots + \dots$

$\dots - \dots$



$(\dots \times \dots) + \dots$

$(\dots \times \dots) - \dots$

3. Ένας ποδοσφαιρικός αγώνας έχει διάρκεια δυο ημίχρονα που το καθένα διαρκεί 45 λεπτά. Μεταξύ των δυο ημιχρόνων γίνεται διάλειμμα 15 λεπτών. Αφού συμπληρώσεις τον πίνακα δείξε στο ρολόι την ώρα που θα δείχνει στο τέλος του αγώνα που έχει ξεκινήσει στις 9 μ.μ.

| ΠΕΡΙΟΔΟΣ | ΧΡΟΝΟΣ |
|------------|------------|
| A ΗΜΙΧΡΟΝΟ | λεπτά |
| ΔΙΑΛΕΙΜΜΑ | λεπτά |
| B ΗΜΙΧΡΟΝΟ | λεπτά |
| ΣΥΝΟΛΟ | λεπτά |

