


ΟΝΟΜΑΤΕΠΩΝΥΜΟ: _____

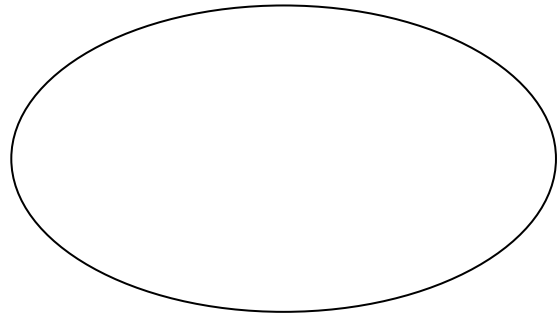
ΠΡΟΒΛΗΜΑΤΑ

1 Ο Κώστας και ο Μάνος γιορτάζουν την ίδια μέρα τα γενέθλιά τους. Στην τούρτα του Κώστα υπάρχουν 12 κεράκια, ενώ στην τούρτα του Μάνου υπάρχουν **4 λιγότερα**. Πόσα κεράκια υπάρχουν στην τούρτα του Μάνου;

Ζωγραφίζω:



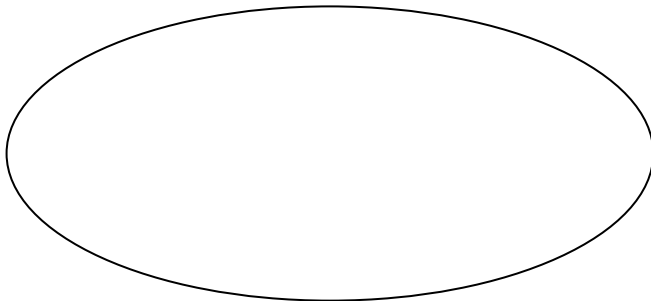
Υπολογίζω:



Απάντηση: _____

2 Στο σχολείο του Λουκά οι μαθητές της Β' τάξης είναι 48. Οι μαθητές της Α' τάξης είναι **8 λιγότεροι** από τους μαθητές της Β' τάξης. Πόσους μαθητές έχει η Α' τάξη;

Υπολογίζω:



Απάντηση: _____

3

Οι ροδακινιές της γιαγιάς είναι 37. Οι μηλιές είναι 6 λιγότερες. Πόσες είναι οι μηλιές;

Υπολογίζω:

Απάντηση: _____

4

Ο Άρης έχει 24 γραμματόσημα. Αγόρασε ακόμη 6 γραμματόσημα. Πόσα γραμματόσημα έχει τώρα;

Υπολογίζω:



Απάντηση: _____

5

Ο Δημήτρης έχει 20 κόκκινα αυτοκινητάκια και 30 πράσινα αυτοκινητάκια . Πόσα είναι όλα τα αυτοκινητάκια του;

Υπολογίζω:



Απάντηση: _____