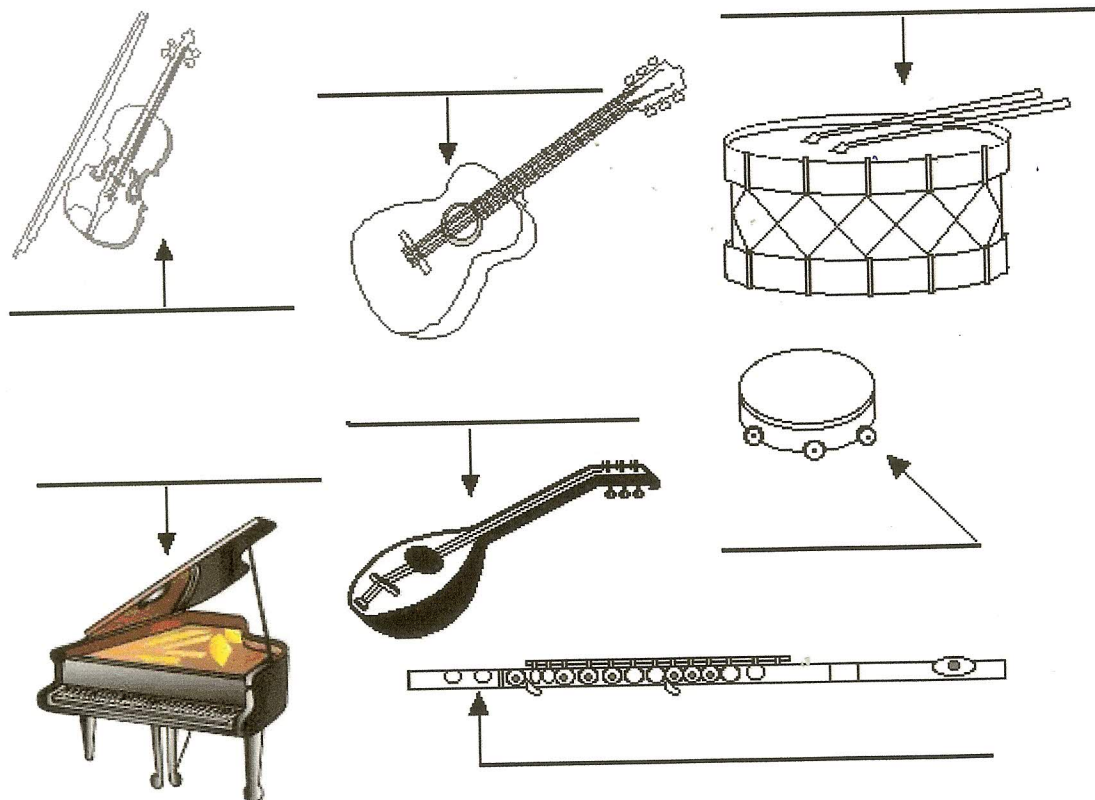


ΟΝΟΜΑ: \_\_\_\_\_

Γράψε τις λέξεις του λεξιλογίου δίπλα στο όργανο που ανήκουν.  
Έπειτα μέτρησε τις συλλαβές τους.  
Χρωμάτισε το μουσικό όργανο με τις περισσότερες συλλαβές.

πιάνο	βιολί	κιθάρα	τύμπανο
μαντολίνο	ντέφι	φλάουτο	




Μέτρησε προσεχτικά τις συλλαβές των λέξεων του λεξιλογίου και γράψε τις στη στήλη που ανήκουν:

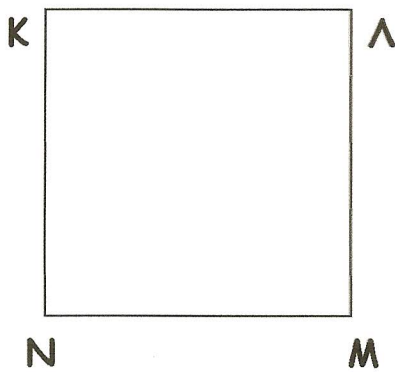
1 ΣΥΛΛΑΒΗ	2 ΣΥΛΛΑΒΕΣ	3 ΣΥΛΛΑΒΕΣ	4 ΣΥΛΛΑΒΕΣ



Πάρε το χάρακά σου τώρα και μέτρησε τα παρακάτω σχήματα.  
Μην ξεχάσεις να τοποθετήσεις το "0" στην αρχή κάθε πλευράς.

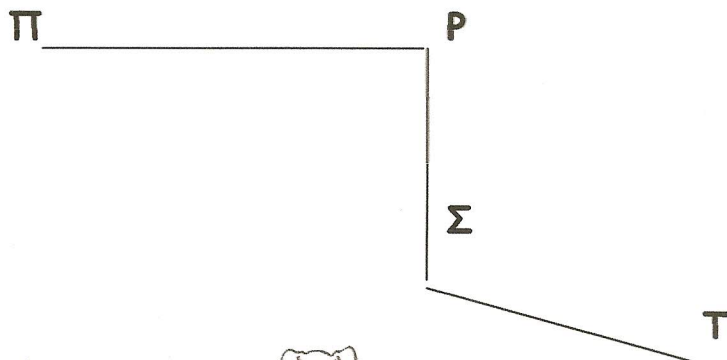


ΑΒ=.....εκατοστά  
ΒΓ=.....εκατοστά  
ΓΔ=.....εκατοστά  
ΔΑ=.....εκατοστά  
ΑΒΓΔ=.....εκατοστά



ΚΛ=.....εκατοστά  
ΛΜ=.....εκατοστά  
ΜΝ=.....εκατοστά  
ΝΚ.....εκατοστά  
ΚΛΜΝ=.....εκατοστά

Και τις γραμμές



ΠΡ=.....εκατοστά  
ΡΣ=.....εκατοστά  
ΣΤ=.....εκατοστά  
ΠΡΣΤ=.....εκατοστά

