

B2

Παρασκευή 22 Νοεμβρίου 2013

ΓΛΩΣΣΑ: Γράψαμε το επαναληπτικό.

Αντιγραφή-ορθογραφία: Δεν έχουμε.

Προτάσεις με τις λέξεις: Δεν έχουμε.

Ανάγνωση: Δεν έχουμε.

ΜΑΘΗΜΑΤΙΚΑ: Έγινε από το τετράδιο εργασιών το επαναληπτικό η δεύτερη σελίδα 39 και κάναμε εξάσκηση στα μαθήματα της ενότητας.

Στα Μαθηματικά θα γράψουμε επαναληπτικό την Τρίτη, το Σαββατοκύριακο να γίνει επανάληψη στα εξής: **στόχος, ρέστα, γεωμετρικά σχήματα, γεωμετρικά στερεά, μισό, διπλάσιο.**

Μία φωτοτυπία Μαθηματικών.


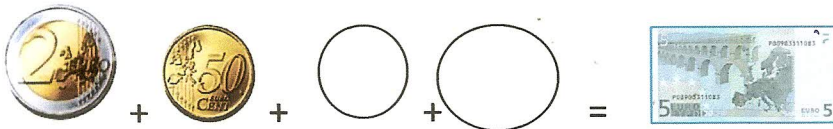
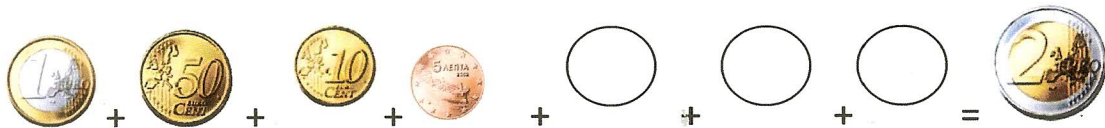
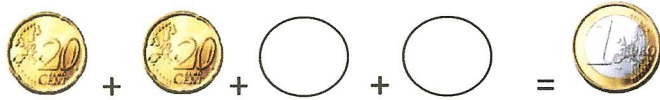

Τη Δευτέρα θα έχουμε: Γλώσσα, Μαθηματικά, Μελέτη Περιβάλλοντος Ευέλικτη Ζώνη, Αγγλικά, Γυμναστική.

Τη Δευτέρα σχολάμε 14:00.

Το ολόημερο λειτουργεί κανονικά.

1. Παρατήρησε προσεκτικά και συμπλήρωσε.

Όνομα: _____




2. Η Αλέκα χρειάζεται 48 € για να αγοράσει μια σειρά παραμυθιών. Έχει στον κουμπαρά της 36 €. Πόσα € πρέπει να συγκεντρώσει για να αγοράσει τα παραμύθια;

Λύση: (Υπολόγισε με αριθμούς)

.....

Απάντηση: Η Αλέκα

3. Παρατήρησε το σχήμα. Ονόμασέ το, μέτρησε με το χάρακά σου και γράψε πόσα εκατοστόμετρα είναι η κάθε πλευρά του σχήματος και υπολόγισε την περίμετρό του.



Πλευρά	Μήκος
 ΕΚ
 ΕΚ
	+ ΕΚ
Περίμετρος ΕΚ