


Όνομα: _____








1. Πόσα ευρώ είναι συνολικά;







2. Βάλε ✓ στα νομίσματα που θα χρησιμοποιήσεις για να συμπληρώσεις το ποσό.

							
25 €							
72 €							
121 €							
37 €							
68 €							

3. Ο



αγόρασε ένα



95 €

Μπορείς να βρεις τρεις νομισμάτων που μπορεί να δώσει;

συνδυασμούς

* 95=

* 95=

* 95=