



Όνομα: _____

ΕΠΑΝΑΛΗΠΤΙΚΟ

1. Συμπληρώνω τους αριθμούς που λείπουν. (20 πόντοι)

$(9 \times 6) - \dots$		$(4 \times 8) + \dots$
$(5 \times 5) + \dots$		$(7 \times 7) + \dots$
$(2 \times 10) + \dots$		$(6 \times 8) - \dots$
$(3 \times 11) + \dots$		$(4 \times 7) + \dots$

2. Συμπληρώνω τα κουτάκια. (20 πόντοι)

$5 \times 8 =$	<input type="text"/>
$6 \times 4 =$	<input type="text"/>
$9 \times 6 =$	<input type="text"/>
$8 \times 7 =$	<input type="text"/>

$7 \times 3 =$	<input type="text"/>
$3 \times 3 =$	<input type="text"/>
$6 \times 5 =$	<input type="text"/>
$7 \times 4 =$	<input type="text"/>

$3 \times 6 =$	<input type="text"/>
$7 \times 5 =$	<input type="text"/>
$8 \times 8 =$	<input type="text"/>
$3 \times 8 =$	<input type="text"/>



3. Αντιστοιχίζω όσα ταιριάζουν. (20 πόντοι)

3×7

8×4

5×5

8×6

10×4

6×6

32

48

21

40

36

25

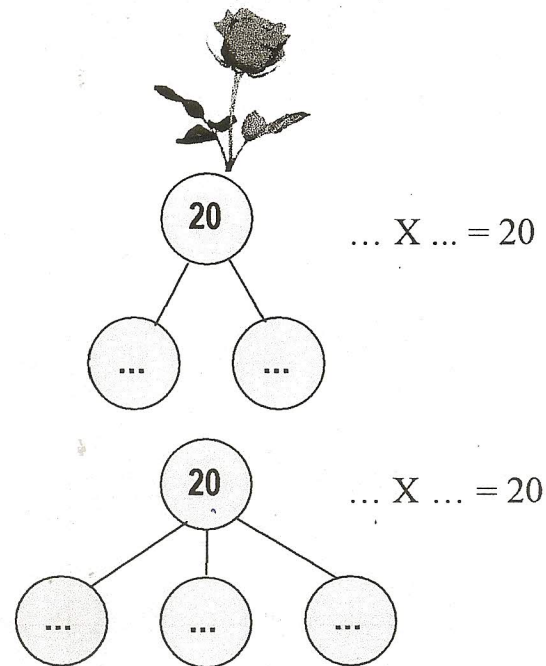
3. Με 20 τριαντάφυλλα πόσες ίδιες ανθοδέσμες μπορούμε να φτιάξουμε; Προτείνω 2 διαφορετικούς τρόπους. (20 πόντοι)




ΖΩΓΡΑΦΙΖΩ



Απάντηση:

.....



4. Η  κάθε εβδομάδα βάζει  στον 

Πόσα χρήματα θα έχει στον κουμπάρα της μετά από 15 εβδομάδες; (20 πόντοι)

☞ Συμπληρώνω τον πίνακα.

Εβδομάδες	1	10	8	20	15
Ευρώ	2

ΥΠΟΛΟΓΙΖΩ

... X ... = ...

... X ... = ... → + ...

→ ...

Απάντηση:

ΠΟΝΤΟΙ: _____

ΠΑΡΑΤΗΡΗΣΕΙΣ ΔΑΣΚΑΛΟΥ _____

ΥΠΟΓΡΑΦΗ ΓΟΝΕΑ: _____