

B2 Τρίτη 11 Μαρτίου 2014

ΓΛΩΣΣΑ: Μπήκαμε στην 15η ενότητα. Έγιναν από το βιβλίο του μαθητή οι ασκήσεις 1,2,3, σελίδες 66,67,68,69,70 και από το βιβλίο εργασιών οι ασκήσεις 1,2, σελίδες 1 και 2, σελίδες 21 και 22.

Αντιγραφή-Ορθογραφία: Από το τετράδιο εργασιών άσκηση 2, σελίδα 22: **Όταν διασχίζω το δρόμο μόνος μου, έχω τα μάτια μου δεκατέσσερα!**

Από το βιβλίο του μαθητή άσκηση 2 οι λέξεις: **επιστολή, αποστολέας, αποστέλλω, παραλήπτης, παραλαμβάνω**

Προτάσεις: Διαλέγω τρεις από τις παραπάνω.

Επίσης να ξέρω να κλίνω το ρήμα έχω. (θα το γράψουμε στην ορθογραφία)

Ανάγνωση: Από το βιβλίο του μαθητή άσκηση 1.


ΜΑΘΗΜΑΤΙΚΑ: Έγινε από το τετράδιο εργασιών το επαναληπτικό, σελίδες 16, 17.

(Καλή εξάσκηση στην προπαίδεια του 5, 10, 2, 4, 8, 7, 3, 6, 9 11)


Εξάσκηση στη διαίρεση. $(32:4=8 \Rightarrow 4 \times 8=32)$

Μία φωτοτυπία Γλώσσας και μία Μαθηματικών.

Όνομα : _____



Το ρήμα «έχω» .



Εγώ έχω
Εσύ έχεις
Αυτός/αυτή/αυτό έχει
Εμείς έχουμε
Εσείς έχετε
Αυτοί/αυτές/αυτά έχουν

1. Μπορείς να γράψεις το σωστό τύπο του ρήματος «έχω» ;

Εμείς στο σπίτι κάθε πρωί _____ αυγά και γάλα για πρωινό.

Το ελληνικό αλφάβητο _____ 24 γράμματα.

Τι _____ εσείς και δεν μιλάτε ;

Νομίζω πως _____ πυρετό σήμερα.

Μπορείς να μου πεις τι _____ και κλαίς ;

Πόσο _____ τα μήλα σήμερα ;

2. Να συμπληρώσεις τα απαραίτητα στοιχεία στο φάκελο.

(Περιοδικό Αερόστατο ,Υπουργείο Εθνικής παιδείας και
θρησκευμάτων – Μαρούσι 15-180 Αθήνα)

<p>.....</p>	
	<p>.....</p>

Όνομα:

Μαθηματικά

Επαναληπτικό ενότητα 5

1. Μια κασετίνα χωράει 11 μολύβια. Πόσα μολύβια θα χωρέσουν σε 5 ίδιες κασετίνες;

Υπολογίζω : _____ Απάντηση: _____

2. Σε ένα ενυδρείο υπάρχουν 72 ψαράκια. Αν τα μοιράσω δίκαια σε 9 γυάλες, πόσα ψαράκια θα έχει η κάθε γυάλα;

Υπολογίζω : _____ Απάντηση: _____

3. Σε μια γυάλα ζουν 7 ψαράκια. Πόσα ψαράκια θα ζουν σε 8 τέτοιες γυάλες;

Υπολογίζω : _____ Απάντηση: _____

4. Μια καλύβα χωράει 5 νάνους. Πόσες καλύβες θα χρειαστούν για να μείνουν 45 νάνοι;


Υπολογίζω : _____ Απάντηση: _____


5. Ένα παραμύθι κοστίζει 4 €. Πόσα παραμύθια μπορώ να αγοράσω με 20€;


4€

Υπολογίζω _____

Απάντηση: _____

6. Με πόσα  μπορώ να καλύψω τη διπλανή επιφάνεια;.....

Με πόσα  μπορώ να καλύψω τη διπλανή επιφάνεια;.....

Με πόσα  μπορώ να καλύψω τη διπλανή επιφάνεια;.....

