

Πέμπτη 14 Νοεμβρίου 2013

ΓΛΩΣΣΑ: Έδωσα στα παιδιά το β' τεύχος της Γλώσσας για να κάνουμε από την ενότητα 9 την άσκηση 8, σελίδες 12 και 13, το οποίο αναφέρεται στο Πολυτεχνείο. Τη Δευτέρα θα τα πάρω πίσω και θα τα δώσω στα παιδιά ξανά, όταν τελειώσουμε το α' τεύχος.

Αντιγραφή-ορθογραφία: Από το βιβλίο του μαθητή άσκηση 8, σελίδα 12 :

Πολύς κόσμος είχε μαζευτεί και κάποιιοι ήταν πολύ συγκινημένοι.

Φτιάχνω μια μικρή ιστορία έξι γραμμών , η οποία θα αναφέρεται στο Πολυτεχνείο. Λέξεις που μπορεί να με βοηθήσουν: Πολυτεχνείο, φοιτητές, χούντα, δικτάτορες, τανκς, κάγκελα, πόρτα, 17 του Νοέμβρη, "Ψωμί-Παιδεία-Ελευθερία".

Ανάγνωση: Από το βιβλίο του μαθητή άσκηση 8, σελίδα 12: Από την αρχή μέχρι αυτές τις μέρες!

ΜΑΘΗΜΑΤΙΚΑ: Έγινε από το βιβλίο του μαθητή το κεφάλαιο 15, σελίδες 42 και 43.

Μία φωτοτυπία Γλώσσας και μία Μαθηματικών.

Την Παρασκευή είναι η γιορτή του Πολυτεχνείου. Τα παιδιά έρχονται στις 9:00 το πρωί στο σχολείο, παρακολουθούν τη γιορτή, η οποία θα κρατήσει περίπου μία ώρα και στις 10:00 φεύγουν. Το ολόημερο δε θα λειτουργήσει.

Τη Δευτέρα θα έχουμε Γλώσσα, Μαθηματικά, Μελέτη Περιβάλλοντος, Ευέλικτη Ζώνη, Αγγλικά.

Τη Δευτέρα σχολάμε 14:00.

Το ολόημερο λειτουργεί κανονικά, τη Δευτέρα.

Συμπληρώνω με:

σπ
















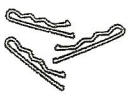






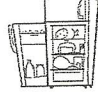

ψ

σκ

ξ

στ


τσ

 κορί___ι	 ___αθί	 άμα___α	 α___ερίας
 ___ούπα	 παπού___ια	 δά___αλος	 ___αλίδι
 ___άρι	 τα___ί	 ποδοσφαιρι___ής	 ___υράφι
 τραγουδι___ής	 ___ιφίας	 μπι___ότο	 ___ιμπιδάκια
 ___ουργίτι	 ___άλα	 καρό___ι	 ___ίτι
 τά___η	 α___ακός	 ___υγείο	 ___ανακόπιτα

Όνομα: _____

Όνοματεπώνυμο.....

1. Συμπλήρωσε τους παρακάτω πίνακες και προσπάθησε να τους λες απ' έξω.



→	0	10								100
---	---	----	--	--	--	--	--	--	--	-----

→	100	90								0
---	-----	----	--	--	--	--	--	--	--	---

→	5		15			30			45	
		60					85			100

→	100		90			75				55
					30			15		5

2. Πόσα εκατοστάμετρα περπάτησε η Κοκκινοσκουφίτσα για να φτάσει στη γιαγιά της;

