

**Πέμπτη 16 Ιανουαρίου 2014**

**ΓΛΩΣΣΑ:** Έγιναν από το βιβλίο του μαθητή οι ασκήσεις 5, 6, 7 σελίδες 10 και 11 και από το τετράδιο εργασιών οι ασκήσεις 6 και 7 σελίδες 54 και 55.

Αντιγραφή-ορθογραφία από το βιβλίο του μαθητή άσκηση 6 :

**Η λίμνη φαντάζει σαν ασημένιος κάμπος.**

Προτάσεις με τις λέξεις: **λίμνη, φαντάζω, ασημένιος**

Ανάγνωση : **Από το βιβλίο του μαθητή άσκηση 5 τα λόγια της Χαράς.**

**ΜΑΘΗΜΑΤΙΚΑ:** Έγινε από το τετράδιο εργασιών το επαναληπτικό , σελίδες 22 και 23.

**Μία φωτοτυπία Γλώσσας και μια Μαθηματικών .**

Όνομα: .....

1. Να συμπληρώσεις τα κενά των προτάσεων με το επίθετο που είναι στο πλαίσιο, με δύο τρόπους, όπως στο παράδειγμα.

π.χ. Το μονοπάτι είναι πιο στενό από το δρόμο.  
Το μονοπάτι είναι στενότερο από το δρόμο.

στενός

Το ελάφι είναι ..... από την τίγρη.  
Το ελάφι είναι ..... από την τίγρη.

γρήγορος

Το σαλόνι είναι ..... από το δωμάτιό μου.  
Το σαλόνι είναι ..... από το δωμάτιό μου.

φωτεινός

Ο ρινόκερος είναι ..... από τη ζέβρα.  
Ο ρινόκερος είναι ..... από τη ζέβρα.

βαρύς

2. Συμπληρώνω τις παρακάτω προτάσεις με την κατάλληλη παρομοίωση που βρίσκω μέσα στον πάπυρο.

σαν σφαίρα, σαν αρκούδα, σαν πουλάκι, σαν το σκύλο με τη γάτα,  
σαν αρνάκι, σαν αλεπού, σαν ποτάμι, σαν μωρό.

Είναι τριχωτός .....

Είναι ελαφρύς .....

Κλαίει .....


Είναι γρήγορος .....

Είναι πονηρός .....


Μαλώνουν .....

Τα δάκρυά του τρέχουν .....

Είναι ήσυχος .....




Όνομα: \_\_\_\_\_



Για ποσότητες που είναι ίσες  
την έκφραση «τόσα όσα».

Π.χ. Τα 2 σκυλάκια είναι τόσα όσα τα μπαλάκια.

μεταξύ τους χρησιμοποιούμε



1. Η Αναστασία έχει μαζέψει 15

☞ Πόσες πρέπει να μαζέψει  
τόσες



και η φίλη της η Κωνσταντίνα 7 .  
ακόμη η Κωνσταντίνα για να έχει  
όσες έχει η Αναστασία;

Ζωγραφίζω

Υπολογίζω

Απάντηση .....

2. Ο φούρναρης ετοίμασε 80 κουλούρια. Νωρίς το πρωί πούλησε τα μισά και  
λίγο αργότερα πούλησε άλλα 10.

☞ Πόσα πρέπει να πουλήσει ακόμη για να τελειώσουν τα κουλούρια;



Υπολογίζω

Απάντηση:.....