

B2

**Δευτέρα 21 Οκτωβρίου 2013**

**ΓΛΩΣΣΑ:** Έγιναν από το βιβλίο του μαθητή η άσκηση 5, σελίδες 38, 39 και από το τετράδιο εργασιών οι ασκήσεις 2 και 3, σελίδες 20 και 21.

**Αντιγραφή-ορθογραφία:** Ο κατάλογος 2 σελίδα 39: αδιάβροχο, γάντια, εσώρουχα, ζακέτα, κάλτσες, μπουφάν, νυχτικά, παντελόνι, σκουφάκι, φούστα

**Προτάσεις με τις λέξεις:** γάντια, κάλτσες, σκουφάκι

**Ανάγνωση:** Δεν έχουμε.

**ΜΑΘΗΜΑΤΙΚΑ:** Έγινε από το τετράδιο εργασιών το Επαναληπτικό, σελίδες 22 και 23.

Μία φωτοτυπία Γλώσσας και μία Μαθηματικών.

Την Τρίτη έχουμε : Γλώσσα, Μαθηματικά, Γυμναστική, Θεατρική αγωγή, Μελέτη Περιβάλλοντος, Ευέλικτη ζώνη.

**Την Τρίτη σχολάμε 14:00.**

**Το ολόημερο λειτουργεί κανονικά.**

# ΜΑΘΑΙΝΟΥΜΕ ΠΑΙΖΟΝΤΑΣ

Με λένε: .....

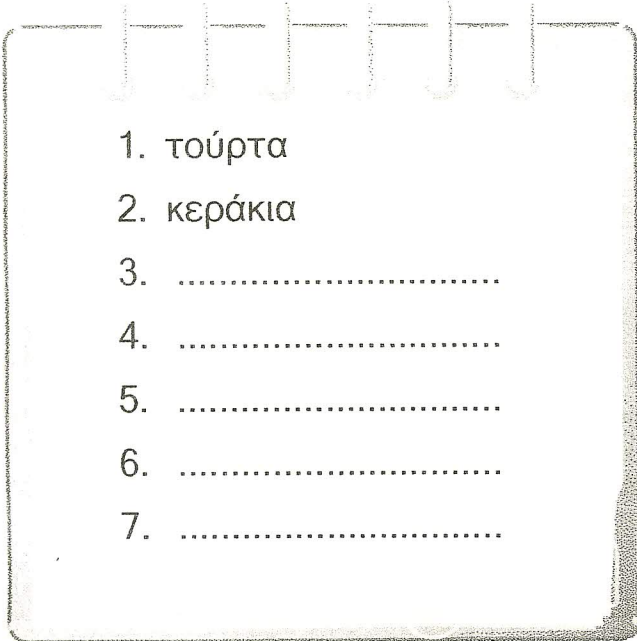
1

Ο Κωνσταντίνος έχει γεννέθλια. Ετοιμάζει μία λίστα με όσα χρειάζεται να ψωνίσει για το πάρτι του και μία λίστα με τους καλεσμένους.


Ας τον βοηθήσω να συμπληρώσει τους δύο καταλόγους.

Λίστα με ψώνια

Λίστα καλεσμένων



1. τούρτα  
2. κεράκια  
3. ....  
4. ....  
5. ....  
6. ....  
7. ....



- γιαγιά
- παπούς
- .....
- .....
- .....
- .....
- .....
- .....

2

Η Καίτη θα πάει για πρώτη φορά στο σχολείο. Ας τη βοηθήσω να ψωνίσει όλα όσα της χρειάζονται από το βιβλιοπωλείο.

Κατάλογος για το  
βιβλιοπωλείο



- μολύβια
- .....
- .....
- .....
- .....
- .....
- .....
- .....


**ΒΡΙΣΚΩ ΤΟ ΜΙΣΟ  
ΚΑΙ ΤΟ ΟΛΟΚΛΗΡΟ**

ΟΝΟΜΑ: \_\_\_\_\_


1. Θέλεις να μοιράσεις στους φίλους σου Λουκά και Χαρά τα μήλα. Ζωγράφισε πόσα θα πάρει ο καθένας.



Blank dotted box for drawing the number of apples Loukas will get.




Blank dotted box for drawing the number of apples Chara will get.



☞ Όλα είναι .....


☞ Τα μισά είναι .....

2. Παρατηρώ το ολόκληρο και βρίσκω το μισό του:



☞ Όλα είναι .....

☞ Τα μισά είναι .....



☞ Όλα είναι .....

☞ Τα μισά είναι .....