


Όνομα: \_\_\_\_\_

1. Η Ελένη και η Βιργινία θέλησαν να κάνουν από ένα κολιέ.  
Η Ελένη θέλει να έχει 24 χάντρες και η Βιργινία θέλει το δικό  
της να έχει 8 περισσότερες.

- ☞ Πόσες χάντρες θα έχει το κολιέ της Βιργινίας;
- ☞ Πόσες χάντρες θα αγοράσουν συνολικά;




ΖΩΓΡΑΦΙΣΩ



ΥΠΟΛΟΓΙΣΩ


Απάντηση: .....

2. Ο Αλέξανδρος αγόρασε δυο  
άλλη 37 ευρώ.



.Η μια άξιζε 45 ευρώ και η

- ☞ Πόσα ευρώ πλήρωσε;



ΥΠΟΛΟΓΙΣΩ

Απάντηση: .....