

Τετάρτη 4 Δεκεμβρίου 2013

ΜΑΘΗΜΑΤΙΚΑ: Έγιναν από το βιβλίο του μαθητή το κεφάλαιο 18 σελίδες 50 και 51.

Μία φωτοτυπία Μαθηματικών.

Όνομα _____

Φτιάχνω διψήφιους αριθμούς με πρόσθεση ίδιων ή διαφορετικών αριθμών

1. Βρίσκω πού έγινε το λάθος και γράφω δίπλα σωστά τις αριθμητικές αλυσίδες:

14, 24, 34, 54, 64 → _____

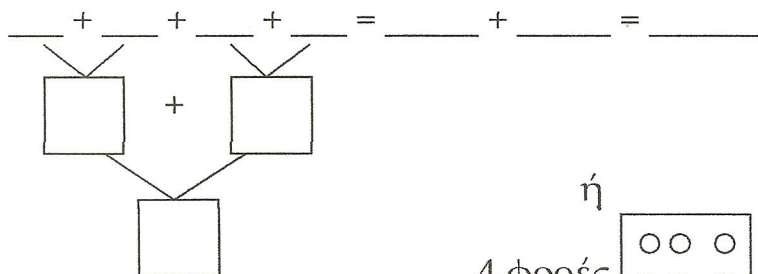
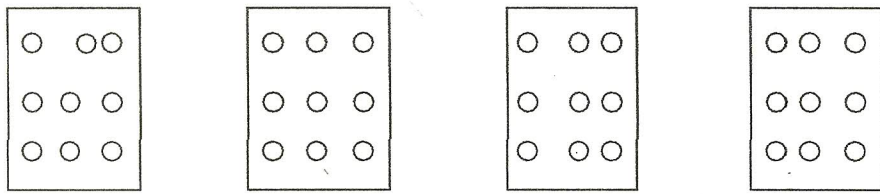
30, 22, 24, 21, 19 → _____


0, 20, 40, 80, 100 → _____

52, 56, 60, 66, 70 → _____

41, 47, 52, 58, 64 → _____

2. Υπολογίζω πόσες είναι όλες μαζί οι τελίτσες που υπάρχουν στις κάρτες :



ή
4 φορές  , δηλαδή _____ X _____ = _____

3. Συμπλήρωσε τα κενά :

$2 + 2 + 2 + 2 + 2 = \underline{\quad}$

ή $\underline{\quad} \times 2 = \underline{\quad}$

$5 + 5 = \underline{\quad}$

ή $\underline{\quad} \times 5 = \underline{\quad}$

$7 + 7 + 7 + 7 = \underline{\quad}$

ή $\underline{\quad} \times 7 = \underline{\quad}$

$4 + 4 + 4 = \underline{\quad}$

ή $\underline{\quad} \times 4 = \underline{\quad}$

