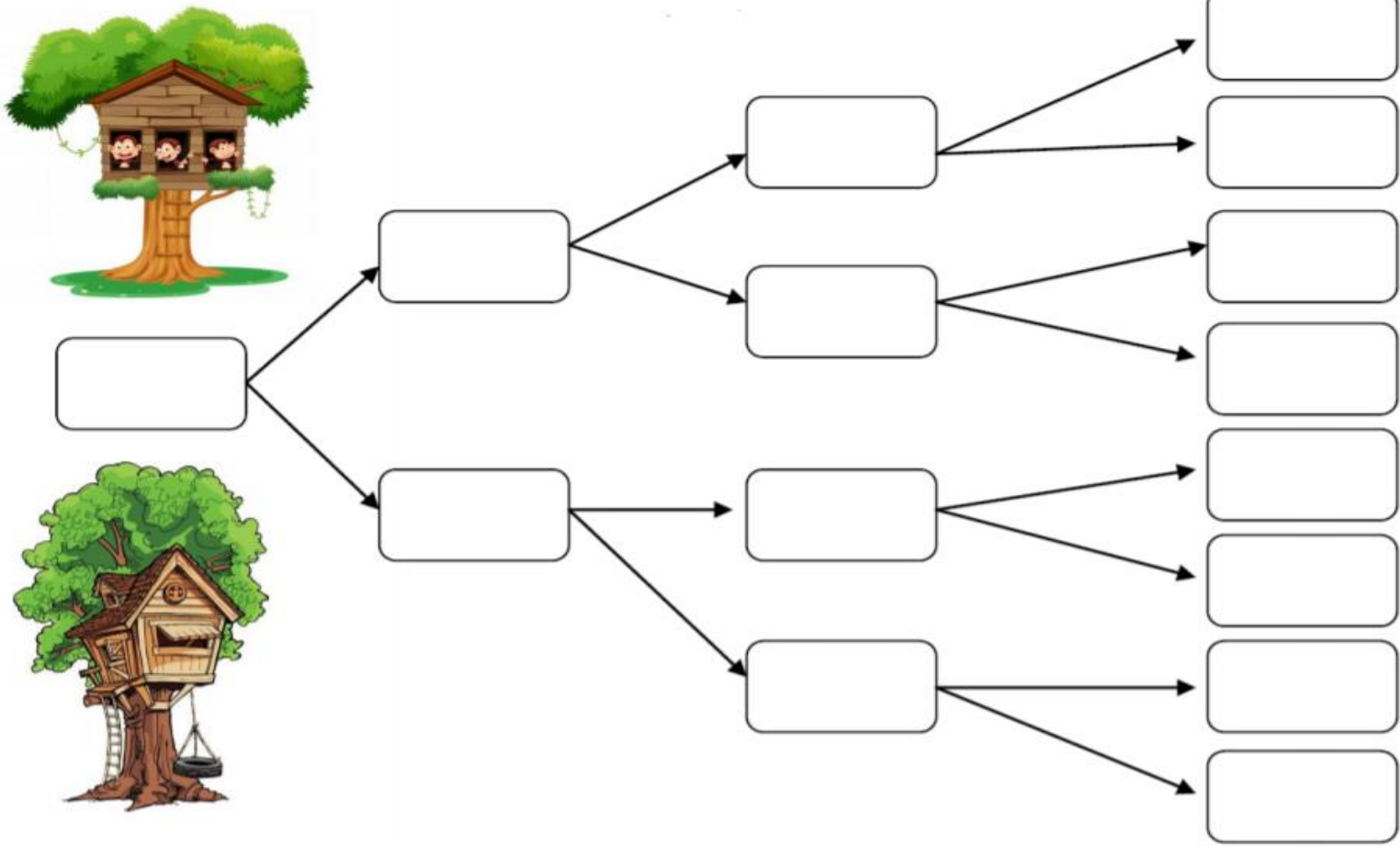


ΜΑΘΗΜΑΤΙΚΑ 8^η ΕΝΟΤΗΤΑ

Κεφ.46: Λύνω προβλήματα: Στρατηγικές νοερών υπολογισμών (α)

1. Συμπληρώνω το μαγικό δέντρο του 1.000.



2. Με την βοήθεια της άσκησης 1 λύνω τα παρακάτω.

$$500 + \underline{\quad} = 1.000$$

$$\underline{\quad} + 250 = 500$$

$$250 + \underline{\quad} + \underline{\quad} + \underline{\quad} = 1.000$$

$$125 + \underline{\quad} = 250$$

$$125 + \underline{\quad} + \underline{\quad} + \underline{\quad} = 500$$



$$2 \times \underline{\quad} = 1.000$$

$$2 \times \underline{\quad} = 500$$

$$\underline{\quad} \times 250 = 1.000$$

$$2 \times 125 = \underline{\quad}$$

$$\underline{\quad} \times 125 = 500$$

3. Κάνω τους παρακάτω υπολογισμούς όπως το παράδειγμα.



$2 \times 5 = 10$

$2 \times 3 = \underline{\quad}$

$3 \times 3 = \underline{\quad}$

$2 \times 50 = 100$

$2 \times 30 = \underline{\quad}$










$3 \times 30 = \underline{\quad}$

$2 \times 500 = 1.000$

$2 \times 300 = \underline{\quad}$

$3 \times 300 = \underline{\quad}$

4. Οι γονείς του Δημήτρη ψώνισαν από το μανάβικο της γειτονιάς. Μπορείς να συμπληρώσεις τον παρακάτω πίνακα;

Αγόρασαν	Έφαγαν	Έμειναν
 700 γραμ.	 400 γραμ.	 _____ γραμ.
 1.000 γραμ.	 _____ γραμ.	 100 γραμ.
 _____ γραμ.	 500 γραμ.	 300 γραμ.

5. Παρατηρώ τις εικόνες και απαντώ στις παρακάτω ερωτήσεις.



Μέλι Θυμαρίσιο

6 € το μισό κιλό



Ανθόμελο

2 € τα 250 γραμ.

Πόσο κοστίζει ένα κιλό Θυμαρίσιο μέλι; _____

Πόσο κοστίζει ένα κιλό ανθόμελο; _____

Πόσο κοστίζει ενάμισι κιλό Θυμαρίσιο μέλι; _____

Πόσο κοστίζει ενάμισι κιλό ανθόμελο; _____

ΚΕΦΑΛΑΙΟ 46, σελ. 48, 49 (χοντρό βιβλίο)

Στη σελίδα 48:

1. Διάβασε την εικόνα, τα λόγια του Νικόλα και της Νεσχάν.
2. Στην Τρίτη κουκίδα στο πινέλο γράψε:
 - I. Πόσες φορές χωράνε τα 250γρ. στο 1κιλό (1000γρ).
 - II. Πόσες φορές χωράνε τα 125γρ. στο 1κιλό (1000γρ).
3. Δίπλα που είναι το μισό κιλό (500γρ) γράψε πόσες φορές χωράνε τα 250 και από κάτω τα 125γρ.

Στη σελίδα 49:

Εργασία 1.

Σε κάθε στήλη σημείωσε τι μπορεί η Γιάννα να πάρει με 8 ευρώ. Μπορεί να το πάρει όσες φορές θέλει το αντικείμενο.

Π.χ. Μπισκότα	X
Σοκολάτες	2
Γιαούρτια	X
Κοκαλάκι	1

Εργασία 2.

Πρέπει να βρεις πόσες φορές χωράει το 5 στο 1000.
Για να το βρεις, κρύψε από το 1000 τα 2 μηδενικά στο τέλος. Άρα, θα πεις το 5 στο 10 μετά αφού βρεις τον αριθμό θα κολλήσεις και τα 2 μηδενικά.

🔗 Γλώσσα δεν θα έχετε κάτι! 😊