


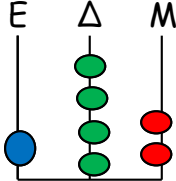
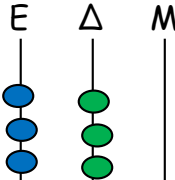


1. Συμπληρώνω τον πίνακα, όπως στο παράδειγμα.

αριθμός με λέξεις	<u>Ε</u> <u>Δ</u> <u>Μ</u>			στον άβακα	αριθμός με ψηφία
					
Εκατόν σαράντα δύο	1	4	2		142
					345
	2	0	9		
					
πεντακόσια πενήντα πέντε					

- Βάζω τους αριθμούς στη σειρά από το μικρότερο στο μεγαλύτερο.

..... < < < <

2. Γράφω πόσες εκατοντάδες (Ε), πόσες δεκάδες (Δ) και πόσες μονάδες (Μ) έχουν οι αριθμοί.

819 → Ε Δ Μ

610 → Ε Δ Μ

702 → Ε Δ Μ

101 → Ε Δ Μ

3. Διαβάζω προσεχτικά τους αριθμούς και τους γράφω με ψηφία.

πεντακόσια τέσσερα _____

οχτακόσια τρία _____

εννιακόσια ενενήντα _____

διακόσια έξι _____

τετρακόσια δύο _____

τριακόσια τριάντα _____

4. Αναλύω τους αριθμούς όπως στο παράδειγμα.


567 → 500 + 60 + 7

728 →

634 →

199 →

421 →



5. Πόσο κάνει...

100 + 100 + 100 = 400 + 200 =

200 + 100 + 200 = 500 + 400 =