





## Προβλήματα με ευρώ

1) Έχω  ευρώ και θέλω να αγοράσω τα παρακάτω προϊόντα. Ποια μπορώ να πάρω και πόσα ρέστα θα πρέπει να μου δώσει ο καταστηματάρχης για το καθένα;

	Μπορώ να το αγοράσω; Ναι <input type="checkbox"/> Όχι <input type="checkbox"/>
1€ 15 λ.	Πόσα ρέστα θα πάρω; ..... .....

	Μπορώ να το αγοράσω; Ναι <input type="checkbox"/> Όχι <input type="checkbox"/>
1€ 50 λ.	Πόσα ρέστα θα πάρω; ..... .....

	Μπορώ να το αγοράσω; Ναι <input type="checkbox"/> Όχι <input type="checkbox"/>
2€ 32 λ.	Πόσα ρέστα θα πάρω; ..... .....

2) α) Τι θα ήθελες να έχεις, 2 κέρματα του 1 ευρώ ή 5 κέρματα των 50 λ. ;

Λογαριάζω: .....

Απάντηση: .....

β) Τι θα ήθελες να έχεις, 2 κέρματα των 2 ευρώ ή 10 κέρματα των 20 λ. ;

Λογαριάζω: .....

Απάντηση:.....

γ) Τι θα ήθελες να έχεις, 1 κέρμα του 1 ευρώ ή 3 κέρματα των 5 λ. ;

Λογαριάζω: .....

Απάντηση:.....

3) Ζωγραφίζω στο αντίστοιχο κουτάκι άλλα κέρματα της ίδιας αξίας με αυτά που έχει η εικόνα:

