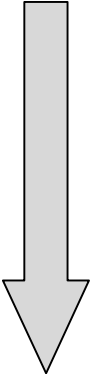
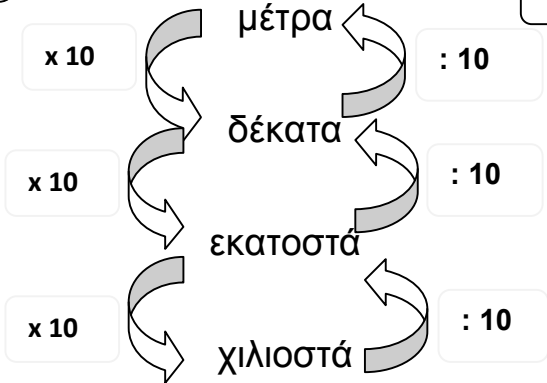


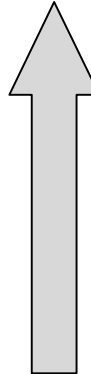
για να πάω
από πάνω προς τα κάτω



π ο λ λ α π λ α σ ι ά ζ ω



δ ι α ι ρ ώ



για να πάω
από κάτω προς τα πάνω

1. Κάνε τις μετατροπές.

0,250 μέτρα →δέκατα

2,5 εκατοστά → μέτρα

10 δέκατα →μέτρα

15 μέτρα → εκατοστά

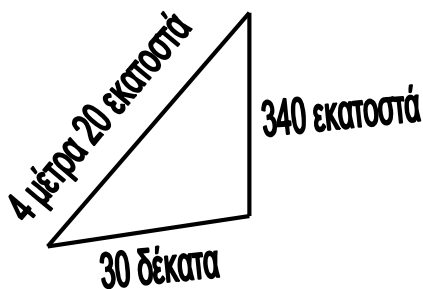
1,8 μέτρα →χιλιοστά

8,500 χιλιοστά → εκατοστά

13 δέκατα → χιλιοστά

70,3 → δέκατα

2. Αφού μετατρέψεις τους αριθμούς στην ίδια μονάδα μέτρησης, υπολόγισε την περίμετρο των σχημάτων.



.....

.....

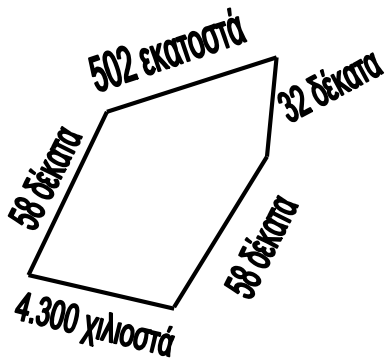
.....

.....

.....

.....

.....



.....

.....

.....

.....

.....

.....

.....

3. Κάνε τις πράξεις.

- $1,2 \text{ μέτρα} + 0,8 \text{ μέτρα} = \dots\dots\dots \text{ εκατοστά} + \dots\dots\dots \text{ εκ.} = \dots\dots\dots \text{ εκ.}$
- $0,5 \text{ χιλιόμετρα} + 1,7 \text{ χιλιόμετρα} = \dots\dots\dots \text{ μέτρα} + \dots\dots\dots \text{ μ.} = \dots\dots\dots \text{ μ.}$
- $10 \text{ εκατοστά} + 27 \text{ εκατοστά} = \dots\dots\dots \text{ χιλιοστά} + \dots\dots\dots \text{ χιλ.} = \dots\dots\dots \text{ χιλ.}$

4. Σωστό ή Λάθος;

Ο Δημήτρης υποστηρίζει ότι τα 0,7 χιλιόμετρα είναι το ίδιο μήκος με τα 700 μέτρα.

Εξήγησε:.....

.....

.....

.....

Η Αθηνά λέει ότι το 1,3 μέτρο είναι 1.300 εκατοστά.

Εξήγησε:.....

.....

.....

.....

5. Μετάτρεψε τους παρακάτω αριθμούς στην μονάδα μέτρησης που ζητείται.

- 2,3 μέτρα →χιλιόμετρα
- 8.425 χιλιόμετρα →μέτρα
- 0,24 χιλιόμετρα → μέτρα
- 91,45 μέτρα →χιλιόμετρα
- 11 μέτρα →χιλιόμετρα
- 1.367 μέτρα →χιλιόμετρα
- 6,02 χιλιόμετρα → μέτρα

1 χιλιόμετρο = 1.000 μέτρα

χιλιόμετρα → μέτρα **κάνω x 1.000**

μέτρα → χιλιόμετρα **κάνω : 1.000**