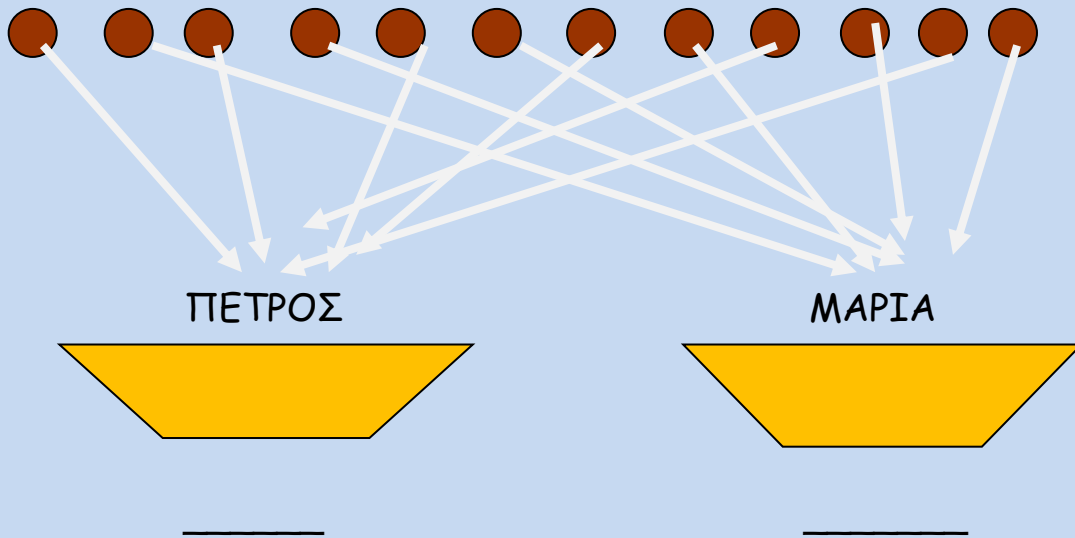


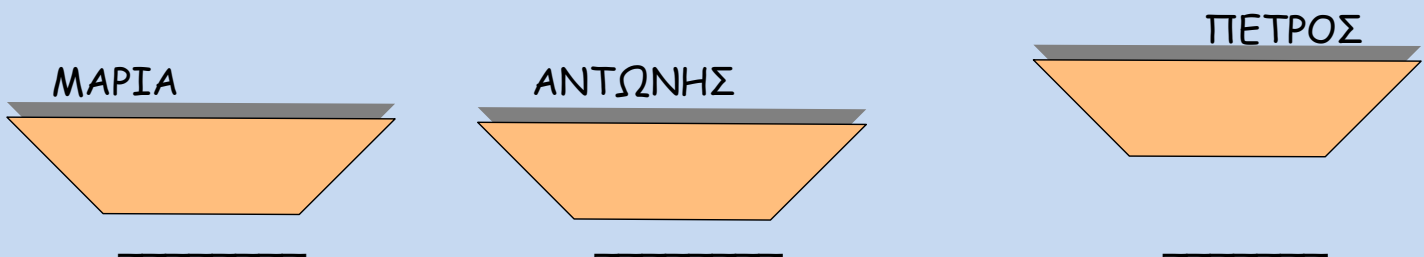
Μοιράζω τα μπισκότα της γιαγιάς

Αυτά είναι τα 12 μπισκότα που έψησε η γιαγιά.

Πόσα θα πάρει ο Πέτρος και πόσα η Μαρία; Ζωγραφίστε τα μέσα στα καλαθάκια και γράψτε από κάτω τον αριθμό. (Δεν πρέπει να μείνει κανένας παραπονεμένος. Πρέπει να πάρει ο καθένας ίσο αριθμό μπισκότων).



Τώρα έχει έρθει και ο Αντώνης. Για να δούμε μπορείς να μοιράσεις τα μπισκότα στα τρία παιδιά τώρα. Ακολούθησε το παράδειγμα πιο πάνω. Μοίρασε από ένα στον καθένα. Από πόσα θα πάρουν;



Να κι η Κατερίνα! Τώρα τα παιδιά έχουν γίνει τέσσερα. Πρέπει να ξαναμοιράσεις τα μπισκότα μεταξύ τους. Μοίρασε από ένα στον καθένα. Από πόσα θα πάρουν;



ΠΕΤΡΟΣ

ΜΑΡΙΑ

ΑΝΤΩΝΗΣ

ΚΑΤΕΡΙΝΑ




Στην αρχή μοιράσαμε το 12 σε 2 άτομα και βρήκαμε πως θα πάρουν από: _____
Μετά μοιράσαμε το 12 σε 3 άτομα και βρήκαμε πως θα πάρουν από: _____
Και τέλος μοιράσαμε το 12 σε 4 άτομα και βρήκαμε πως θα πάρουν από: _____

Πήγαινε στο **βιβλίο** των Μαθηματικών και κάνε το ίδιο στις εργασίες 1 και 2 στη σελ 9. (Ζωγράφισε τα τραπέζια με τα πιάτα σε ένα πρόχειρο).


Μοιράστε τώρα

15 καραμέλες σε 5 παιδιά



Από πόσες θα πάρουν; _____

20 μπαλάκια σε 4 παιδιά



Από πόσα θα πάρουν; _____

Ας διαβάσουμε τώρα δυνατά αυτό το παραμύθι κι ας το **μοιραστούμε** με τους γονείς, τα αδέρφια ή τα ξαδέρφια μας 😊

<https://www.ebooks4greeks.gr/o-mpampakenios> Ας ακούσουμε και το τραγουδάκι μας.

<https://safeYouTube.net/w/UI89>