

Όνοματεπώνυμο \_\_\_\_\_



## Οι δίφθογγοι

Οι δίφθογγοι είναι: **αϊ, αί, αη** και **οϊ, οί, όη**

### Άσκηση

Βάφω με κόκκινο χρώμα τους διφθόγγους που βρίσκονται σε λέξεις των παρακάτω προτάσεων.

- Το αηδόνι κελαηδάει υπέροχα.
- Ο γάιδαρος γκαρίζει.
- Η νεράιδα μαγεύτηκε από την ομορφιά του δάσους.
- Η κυρία Αγλαΐα έχυσε τον καφέ της και λέρωσε το μωσαϊκό.
- Ο μήνας Μάιος λέγεται αλλιώς και Μάης.
- Βόηθα με να σε βοηθώ ν' ανεβούμε το γκρεμό.
- Όποιος κοροϊδεύει τους άλλους, κοροϊδεύει τον εαυτό του.
- Το ρόδι το λέμε και ρόιδι.
- Αγόρασα από τη λαϊκή μαϊντανό και βουνίσιο τσάι.
- Τον πίθηκο τον λέμε και μαϊμού.
- Ο παππούς μου χαϊδεύει το μουστάκι του και παίζει με το κομπολόι του.



ΟΝΟΜΑ \_\_\_\_\_

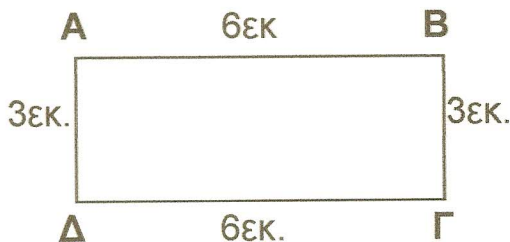
# Μετρώ ευθύγραμμα τμήματα

## Περίμετρος



Όταν θέλω να βρω πόσο είναι όλες οι πλευρές ενός σχήματος γύρω-γύρω, τότε ψάχνω την **περίμετρό** του.

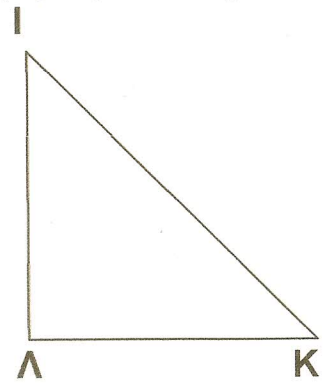

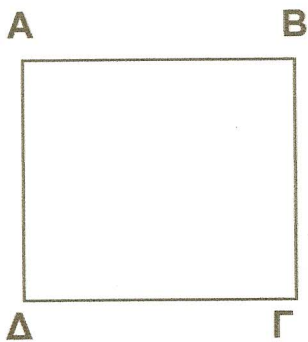
Για να βρω την **περίμετρο**, προσθέτω όλες τις πλευρές.



$$6 + 6 + 3 + 3 = 18 \text{ εκ.}$$

Η **περίμετρος** του σχήματος ΑΒΓΔ είναι 18εκ..

→ Μέτρησε με το χαρακάκι σου πόσα εκατοστά περίπου είναι η πλευρά κάθε σχήματος και ύστερα υπολόγισε την **περίμετρό** τους:



Πλευρά	Μήκος
ΑΒ	...εκ.
ΒΓ	...εκ.
ΓΔ	...εκ.
ΔΑ	...εκ.
<b>Περίμετρος</b>	...εκ.

Πλευρά	Μήκος
ΕΖ	...εκ.
ΖΗ	...εκ.
ΗΘ	...εκ.
ΘΕ	...εκ.
<b>Περίμετρος</b>	...εκ.

Πλευρά	Μήκος
ΙΚ	...εκ.
ΚΛ	...εκ.
ΛΙ	...εκ.
<b>Περίμετρος</b>	...εκ.