

Όνομα _____
 Επώνυμο _____
 Ημ/νία _____

ΕΠΑΝΑΛΗΠΤΙΚΟ

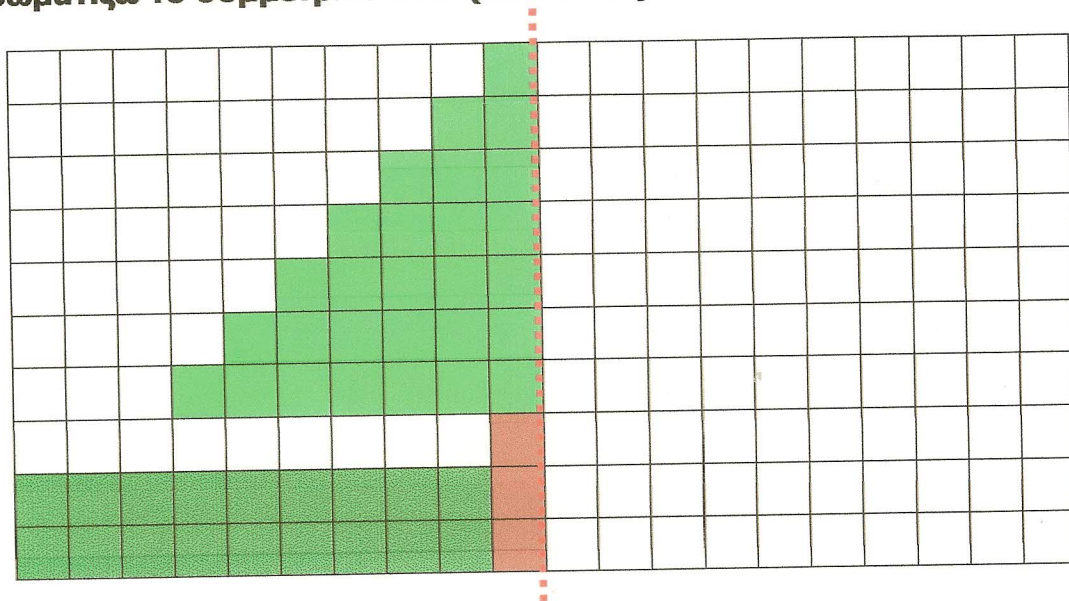


1. Συμπληρώνω τους αριθμούς που λείπουν. (15 πόντοι)

$85 - \dots - \dots$
 $36 + \dots + \dots$

$98 - \dots - \dots$
 $45 + \dots + \dots$

2. Χρωματίζω το συμμετρικό του. (10 πόντοι)



3. Υπολογίζω τη συνολική αξία του μοτίβου. (15 πόντοι)

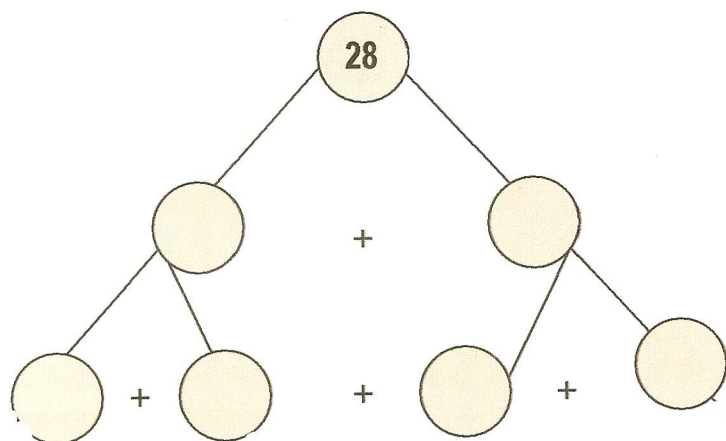
Av = 16

= 4

Υπολογίζω: $\dots + \dots + \dots + \dots + \dots + \dots + \dots + \dots = \dots$

$\underbrace{\hspace{1.5cm}} \quad \underbrace{\hspace{1.5cm}} \quad \underbrace{\hspace{1.5cm}} \quad \underbrace{\hspace{1.5cm}}$
 $\dots \quad \quad \quad \dots \quad \quad \quad \dots \quad \quad \quad \dots = \dots$

4. Μπορείς να φτιάξεις το μαγικό δέντρο του 28; (15 πόντοι)



$$28 = _ + _$$

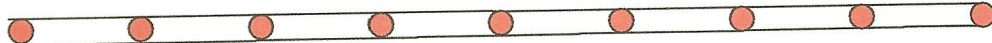

$$\text{ή } _ \times _$$

$$28 = _ + _ + _ + _$$

$$\text{ή } _ \times _$$

5. Πόση απόσταση θα διανύσει το ποντικάκι για να φτάσει στο τυράκι;

(15 πόντοι)



5 εκ. 5 εκ. 5 εκ. 5 εκ. 5 εκ. 5 εκ. 5 εκ. 5 εκ.

Υπολογίζω

6. Η γιαγιά έδωσε στα 5 εγγόνια της 25 κουλουράκια. Πώς μπορούν να τα μοιράσουν δίκαια; (15 πόντοι)




Ζωγραφίζω

Υπολογίζω με αριθμούς

7. Η



θέλει ν' αγοράσει ένα



Η γιαγιά τής έδωσε 55 ευρώ. Πόσα ευρώ πρέπει να της δώσει ο παππούς της για ν' αγοράσει το ποδήλατο; (15 πόντοι)

Υπολογίζω:
Με πρόσθεση

Υπολογίζω:
Με αφαίρεση

Σύνολο πόντων: _____

Παρατηρήσεις
δασκάλου: _____

Υπογραφή γονέα: _____

(Το φέρνουμε πίσω στο σχολείο)