

Όνομα ..... Ημερομηνία: .....

1) Γράφω τα ακρωνύμια που σχηματίζονται από τις παρακάτω λέξεις:

**Ίδρυμα Κοινωνικών Ασφαλίσεων** .....


**Εθνικό Κέντρο Άμεσης Βοήθειας** .....

**Κοινό Ταμείο Εισπράξεως Λεωφορείων** .....

**Φόρος Προστιθέμενης Αξίας** .....

**Ολυμπιακό Αθλητικό Κέντρο Αθηνών** .....

Ακρωνύμια λέγονται οι λεξούλες που σχηματίζονται από τα αρχικά γράμματα μεγάλων λέξεων. Μην ξεχνάς ότι ανάμεσα στα γράμματα βάζουμε τελεία.



2) Συμπληρώνω το παρακάτω κείμενο με το κατάλληλο οριστικό άρθρο:

«..... παπούτσια αυτά έχουν μια ειδική αποστολή, απαντά ..... Αντέλα. Αλλά ας πάρουμε ..... πράγματα με ..... σειρά. .... αφέντης μου είναι ..... Κύριος ..... αγάπης. Αγαπά και νοιάζεται όλους ..... ανθρώπους και στεναχωριέται πολύ για ..... κατάντια τους. Παιδιά πεθαίνουν από ..... πείνα, ..... δίψα και ..... αρρώστιες, ενώ ..... ίδια στιγμή υπέρογκα ποσά σπαταλούνται για πυρηνικά όπλα και διαστημικά προγράμματα...»

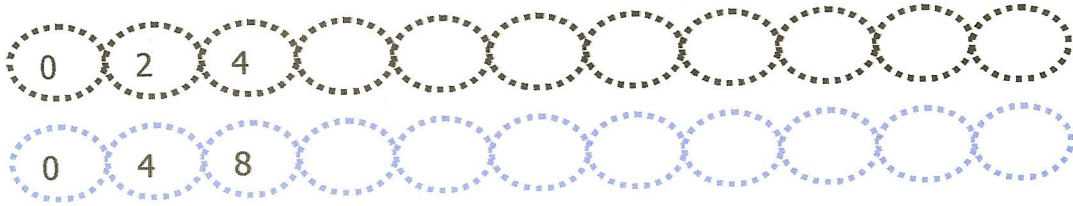
(περιοδικό Kid's Fun, τεύχος 65, «Οι σπόροι της Αγάπης»)

3) Συμπλήρωσε τα κενά με το άρθρο που ταιριάζει.

.....χαράς	.....μέρες	.....σχολεία	.....βουνών
.....σταθμού	.....κατσικά	.....ελέφαντα	.....μηχανικούς
.....κάμπους	.....πόρτας	.....τράπεζες	.....γιατροί
.....παιδιών	.....γλυκών	.....ήλιου	.....φωλιάς
.....τύμπανο	.....γέφυρα	.....χάρτης	.....φόβος
.....χαρτί	.....ομπρέλα	.....λαός	.....κόσμος
.....φωτιά	.....γιορτή	.....χωράφι	.....πυξίδα

ΟΝΟΜΑ: \_\_\_\_\_

1. Συμπλήρωσε τα μοτίβα.



2. Συμπλήρωσε τους πίνακες.

X	0	1	2	3	4	5	6	7	8	9	10
2											

X	0	1	2	3	4	5	6	7	8	9	10
4											


3. Η Κωνσταντίνα έχει 6 αυτοκόλλητα. Η Βιργινία έχει διπλάσια και η Θεοδώρα έχει τετραπλάσια. Πόσα αυτοκόλλητα έχουν όλες μαζί;



ΥΠΟΛΟΓΙΣΩ

Απάντηση: .....

4. Ο βάτραχος έχει 4 πόδια. Πόσα πόδια έχουν οι 2 βάτραχοι και πόσα πόδια έχουν οι 4 βάτραχοι;



ΥΠΟΛΟΓΙΣΩ

Απάντηση: •.....  
•.....

Γράψε στο τετράδιο των μαθηματικών 3 φορές την προπαίδια 2 και τρεις του 4 και να την μάθεις καλά να τη λες.